


Séquence TEC5 : Comment a-t-on amélioré les performances des jeux vidéo ?

S2 : Comment sont codées les images en langage informatique ?

Rappel de 6ème :
 En programmation informatique, les deux valeurs de l'information numérique sont : **0** ou **1**. On appelle ces valeurs des **bits**.
 Une suite de 8 bits est appelée un **octet**.
 L'octet est l'unité de capacité numérique. Cette unité permet de déterminer une quantité d'information numérique.

Le codage d'une image en noir et blanc




En 1976, au Japon, un jeune prodige, *Tomohiro Nishikado* crée le célèbre jeu « Space Invaders ».

[présentation en version colorisé de 1978.](#)

Nous allons maintenant découvrir un personnage de ce jeu, et découvrir comment est codé son image.



Pour ce personnage, l'image sera définie sur 11 pixels en largeur et 8 pixels en hauteur. (on peut les compter très facilement sur l'image ci-dessus!)



Pour ce type de codage, chaque pixel est soit noir, soit blanc.




Il faut donc un bit pour coder un pixel : 0 pour noir, 1 pour blanc.

0	0	1	0	0	0	0	0	1	0	0
0	0	0	1	0	0	0	1	0	0	0
0	0	1	1	1	1	1	1	1	0	0
0	1	1	0	1	1	1	0	1	1	0
1	1	1	1	1	1	1	1	1	1	1
1	0	1	1	1	1	1	1	1	0	1
1	0	1	0	0	0	0	0	1	0	1
0	0	0	1	1	0	1	1	0	0	0

Combien de bits composent cette image ?

Sachant que 1 octet est composé de huit bits, quelle est la capacité numérique de cette image ?

A toi de coder !



Quelle est la définition de l'image ?

pixels en largeur x pixels en hauteur

Sur une feuille de classeur (petits carreaux 5x5 de préférence) ou numériquement, **réalise un tableau** (dont la trame est la définition de l'image) et **code chaque pixel**. (comme dans l'exemple ci dessus)

Entre les deux personnages de Space Invaders, lequel a la capacité numérique la plus importante ? Justifie.

Le codage d'une image en couleur



Le codage des images en couleur a évolué rapidement offrant au départ une palette de 4 niveaux de gris (codage sur 2 bits) en passant par une palette de 16 couleurs (codage sur 4 bits, comme ci-contre).

Codage d'une image en couleurs sur 4 bits :

Dans ce cas on attache une palette de 16 couleurs à l'image.

Ainsi chaque pixel est codé sur 4 bits (soit 1/2 octet).

Quelle est la définition de l'image ci contre ?

pixels en largeur x pixels en hauteur.

Quelle est la capacité numérique de cette image ?



Mario

Codage d'une image en couleurs sur 8 bits :

Dans ce cas on attache une palette de 256 couleurs à l'image.

Chaque code (de 0000 0000 à 1111 1111) désigne une couleur choisie.

Ainsi chaque pixel est codé sur 8 bits (soit un octet).

Codage d'une image en couleurs sur 24 bits :

Dans ce cas, la couleur du pixel est codé sur une palette de 16 millions de couleurs.



Chaque pixel est codé par une nuance de rouge, une nuance de vert et une nuance de bleu.

- 1 octet définit la nuance de rouge
- 1 octet définit la nuance de vert
- 1 octet définit la nuance de bleu

Chaque pixel est codé sur 3 octets soit 24 bits.

Compétences travaillées :

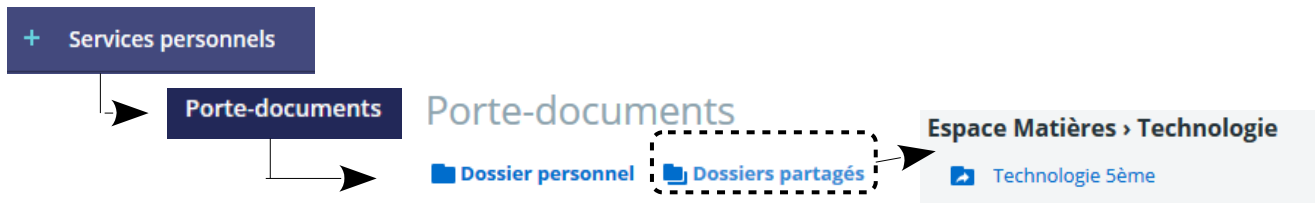
CT1.2 Mesurer des grandeurs de manière directe ou indirecte.

CT 4.2 Appliquer les principes élémentaires de l'algorithmique et du codage à la résolution d'un problème simple.

Quelles sont les principales avantages et inconvénients de tous les codages d'image ?



Connecte toi à Eclat, ouvre le dossier partagé : « Comment ont évolué les jeux vidéo »



Dossiers partagés > Technologie 5ème

TEC5 _Comment ont évolué les jeux vidéo



Dans ce dossier, tu trouves 5 fichiers « image » au format .PNG (③)

Ces 5 fichiers représentent la même image numérique. Comme le nom du fichier l'indique, ce doit être un joystick. (①)

Cette image a été défini sur de 1920 pixels de largeur × 1277 pixels de hauteur (②)

Les noms de fichier (créé par le concepteur), nous donne un autre renseignement sur les images. **Lequel ?**

Dans l'affichage du dossier partagé sur Eclat, tu trouves un autre renseignement sur la capacité numérique de chaque fichier.

Comment est appelé la capacité numérique sur Eclat ?

Vous allez maintenant ouvrir chaque fichier numérique d'image, et bien les observer. Pensez à utiliser le zoom du logiciel qui les affichera.

A partir de tes observations d'images et des renseignements découverts précédemment, réalise (sur feuille ou numériquement) le tableau comme ci dessous

	Nombre de bit(s) utilisé(s) pour le codage de l'image	capacité du fichier numérique	Qualité / lisibilité de l'image
1ère image			
2ème image			
.....			

Quelle conclusion peut tirer de ce tableau ?

Compétences travaillées :

CT 5.3 Lire, utiliser et produire des représentations numériques d'objets.

CS 1.7 Interpréter des résultats expérimentaux, en tirer une conclusion et la communiquer en argumentant.